

FICHA DE ESTUDO

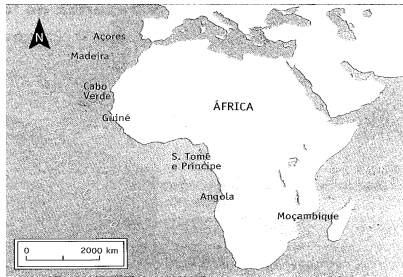
História e Geografia de Portugal

6º ano



Lê com atenção e responde.

1. Observa a imagem e responde.



1.1. África era o continente mais pretendido no final do século XIX. Justifica a afirmação.

.....

.....

.....

.....

.....

.....

1.2. Onde e quando se discutiu a partilha de África?

.....

.....

1.3. Indica o significado do mapa.


.....

.....

.....

.....

.....



1.4. Explica a imagem da figura.



.....

.....

.....

.....

2. Em Portugal, os acontecimentos do último quarto do século XIX provocaram um grande descontentamento na população.

2.1. Enumera dois aspectos deste descontentamento.

.....

.....

.....

.....

2.2. Quem queria mudar esta situação?

.....
.....

2.3. Situa no tempo e no espaço a mais importante revolta contra a monarquia.

.....
.....

3. Observa a imagem e indica o que foi o Regicídio.

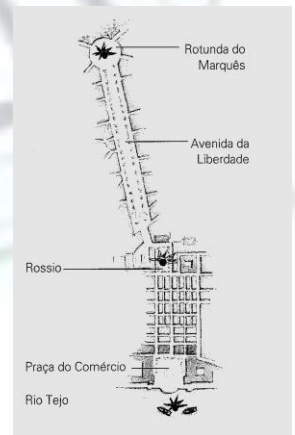


.....
.....
.....
.....

4. O esquema mostra a revolta que levou à implantação da república.

4.1. Descreve os principais momentos desta revolta.

.....
.....
.....
.....



4.2. Indica como terminou.

.....
.....
.....

4.3. Situa-a no espaço e no tempo.

.....
.....